

# ТИТУЛЬНЫЙ ЛИСТ

Всероссийская олимпиада школьников

Школьный этап

Заполняется ПЕЧАТНЫМИ БУКВАМИ чернилами черного или синего цвета по образцам:

А	Б	В	Г	Д	Е	Ж	З	И	К	Л	М	Н	О	П	Р	С	Т	У	Ф	Х	Ц	Ч	Ш	Щ	Ъ	Ы	Ь	Э	Ю	Я	@	8	9	.
A	B	C	D	E	F	G	H	I	J	K	L	M	N	O	P	Q	R	S	T	U	V	W	X	Y	Z	1	2	3	4	5	6	7	0	.

ПРЕДМЕТ История КЛАСС 06

ДАТА 02.10.2024

ШИФР УЧАСТНИКА

610010

ФАМИЛИЯ Химевич  
 ИМЯ Левел  
 ОТЧЕСТВО Игоревич

Дата рождения 17.07.2007<sup>12</sup>

Муниципалитет Налочинский

Сокращенное наименование образовательной организации (школы)  
БДУ Новосветская СОШ

Сведения о педагогах-наставниках

1. Фамилия \_\_\_\_\_  
 Имя \_\_\_\_\_  
 Отчество \_\_\_\_\_  
 Сокращенное наименование образовательной организации (школы) \_\_\_\_\_

2. Фамилия Химевич  
 Имя Людмила  
 Отчество Александровна  
 Сокращенное наименование образовательной организации (школы) \_\_\_\_\_

Личная подпись участника Химевич Все поля обязательны к заполнению!

Шифр участника 60010**ЗАДАНИЯ ДЛЯ ОБУЧАЮЩИХСЯ**  
Время выполнения заданий - 45 минут  
Максимальное количество баллов - 100 баллов

906

Задание 1. Решите тестовые задания. Ответ запишите в таблицу.

Максимальный балл за задание - 10 баллов. За каждый правильный ответ - 2 балла.

- 1.1. Какое из перечисленных событий способствовало падению Западной Римской империи и послужило началом эпохи Средних веков в Европе.
- А) падение Восточной Римской империи
  - Б) создание империи Карла Великого
  - В) Великое переселение народов
  - Г) зарождение христианства
- 1.2. Какое из Семи чудес света было создано царем Навуходоносором II для своей жены Амитис?
- А) Галикарнасский мавзолей
  - Б) Висячие сады
  - В) Фаросский маяк
  - Г) Колосс Родосский
- 1.3. Какой римский император разрешил христианам строить храмы и открыто молиться?
- А) Константин
  - Б) Нерон
  - В) Ромул
  - Г) Марк Аврелий
- 1.4. Ко II в. до н.э. в Римской империи обострился земельный вопрос, назовите кто из трибунов вступился за бедняков, и настоял на принятии земельного закона, по которому излишки государственной земли должны были розданы беднякам без права продажи?
- А) Октавий
  - Б) Квинт Клавдий
  - В) Гай Красс

Шифр участника \_\_\_\_\_

Тиберий Гракх

1.5. Театральные представления зарождаются в Древней Греции, с празднествами в честь какого бога, связывают появление театра?

А) Зевс

Б) Аполлон

Дионис

Г) Посейдон

Ответ:

1.1	1.2	1.3	1.4	1.5
в	б	а	г	в

68

Задание 2. Установите ложность или правильность данных утверждений. («Да» - «Нет»). Максимальный балл за задание - 10 баллов. За каждый правильный ответ - 2 балла.

№	Утверждение	Да/нет
1	Верно ли, что подъем культуры в Западной Европе в VIII-IX веках называется эпоха Возрождения?	Да 0
2	Верно ли, что земля в Западной Европе принадлежала феодалам, а крестьяне были лишь её держателями?	Да 2
3	Верно ли, что первые университеты появились в эпоху Средневековья?	Нет 0
4	Верно ли, что основной целью Крестовых походов было освобождение Пиренейского полуострова от арабов?	Нет 2
5	Верно ли, что в Средневековье сложились языки многих народов: английский, немецкий, французский, испанский и др.?	Да 2

05 Задание 3. Восстановите правильную хронологическую последовательность событий. Ответ запишите в виде последовательности номеров событий.

Максимальный балл за задание - 3 балла.

- 3 А) Призвание Рюрика в Новгородскую землю
- 1 Б) Образование Арабского халифата
- 2 В) Разделение православной и католической церкви



Шифр участника 60010

Г) Падение Константинополя

Ответ: б, в, г, з об

708

Задание 4. Установи соответствие между историческим деятелем и событием, связанным с ним. Ответ запишите в таблицу.

Максимальный балл за задание – 10 баллов. За каждый правильный ответ – 2 балла.

Исторический деятель	Историческое событие
4.1. Данте Алигьери	А Византийский император, создавший «Свод гражданского права»
4.2. Иоганн Гутенберг	Б Создание Франкской империи
4.3. Юстиниан	В Создание «Божественной комедии»
4.4. Ян Жижка	Г Изобретение книгопечатание
4.5. Карл Великий	Д Организатор и руководитель гуситских войск

Ответ:

4.1	4.2	4.3	4.4	4.5
б	Г	А	г	д

85

Задание 5. По какому принципу образованы ряды?

Максимальный балл за задание – 10 баллов. За каждый правильный ответ – 2 балла.

- 5.1. герцог – барон – рыцарь феодалы 2
- 5.2. епископ – аббат – священник служители церкви 2
- 5.3. барщина – натуральный оброк – денежный оброк крестьянские повинности 2
- 5.4. Пипин Короткий – Карл Великий – Людовик I Каролинги 2
- 5.5. грамматика - риторика – диалектика - 0

845

Задание 6. Прочитайте текст и вставьте пропущенные слова. Ответ запишите в таблицу.

Максимальный балл за задание – 18 баллов. За каждый правильный ответ – 2 балла.

В Средние века действовало правило «Нет земли без (1)». В IX-X веках вся земля в Западной Европе оказалась у светских и духовных (2). Возникла феодальная (3) – хозяйство

Шифр участника \_\_\_\_\_

феодала, в котором работали <sup>завис кресты</sup> (4). Пахотная и прочая земля в вотчине делилась на две части — (5) и (6) наделы. За пользование землей зависимые крестьяне должны были нести (7) (принудительные обязанности). Главными повинностями крестьян были (8) и (9). <sup>Ловишь</sup>

Слова:

- А. Зависимые крестьяне
- Б. Господскую
- В. Сеньор
- Г. Феодалов
- Д. Повинности
- Е. Вотчина
- Ж. Барщина
- З. Крестьянские
- И. Король
- К. Оброк





Ответ:




1	2	3	4	5	6	7	8	9
Г	В	Е	А	Б	З	Д	Ж	И
		2	2	2	2	2	2	2

100

Задание 7. Разгадайте ребусы, и запишите ответы.

Максимальный балл за задание – 10 баллов. За каждый правильный ответ – 5 баллов.

А) ФЕ  Л Д  В  С 

Б)  В  С 

Ответ:

А) Лодка 5 Б) Духовенство 5

95

Задание 8. Работа с картой.

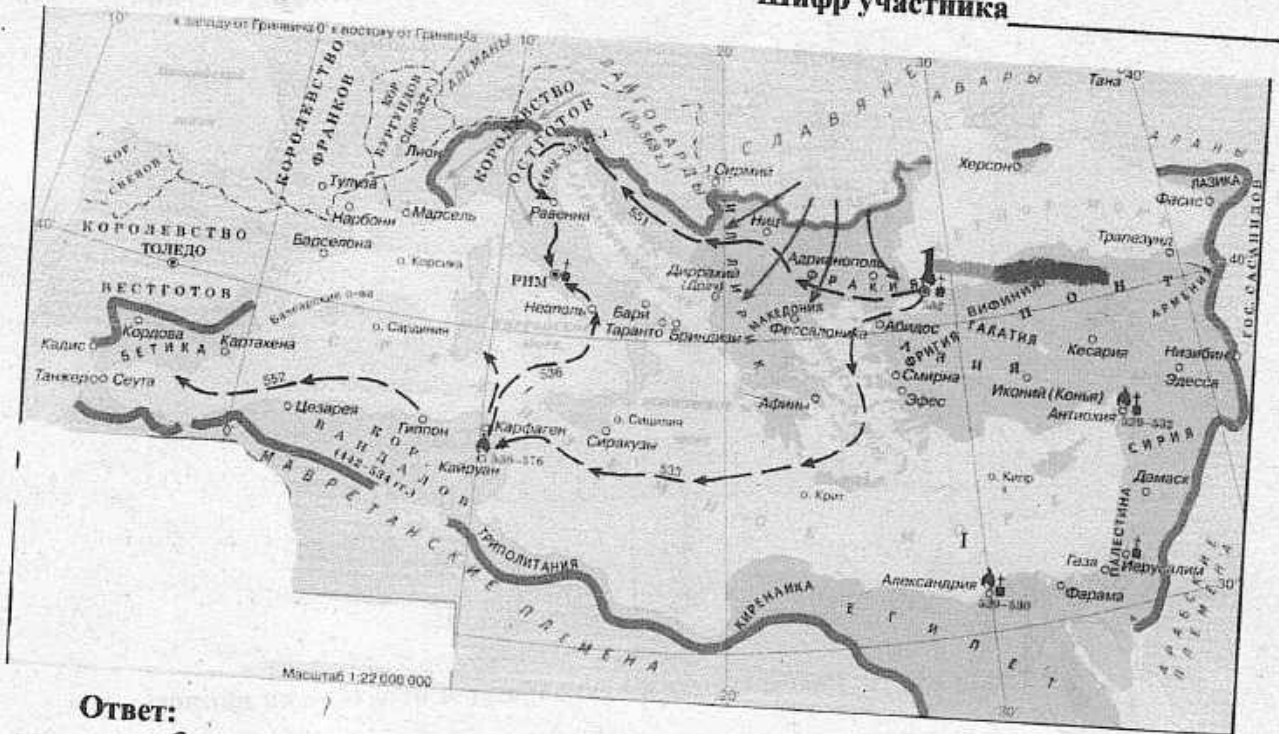
Рассмотрите карту и выполните задания.

Максимальный балл за задание – 9 баллов. За каждый правильный ответ – 3 балла.

- 8.1. Назовите государство, территория которого изображено на карте?
- 8.2. Назовите столицу данного государства, на карте обозначенную цифрой 1?
- 8.3. При каком императоре VI века н.э. данное государство достигло наибольшего своего могущества?



Шифр участника \_\_\_\_\_



Ответ:

- 8.1 Византийская Империя 3
- 8.2 Константинополь 3
- 8.3 Юстиниан 3

148

**Задание 9. Решите кроссворд.**

Максимальный балл за задание – 10 баллов. За каждый правильный ответ – 2 балла.

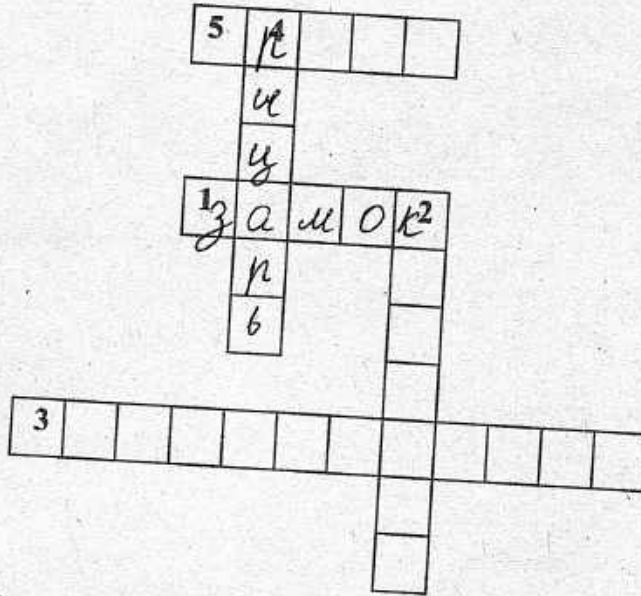
**По горизонтали:**

1. Укреплённое жилище феодала, преимущественно из камня, во время набегов неприятеля служил убежищем для населения.
3. Грамота об отпущении грехов, выдаваемая за деньги католической церковью от имени папы римского.
5. Религиозное учение, противоречащее основным положениям господствующей католической церкви, отступление от «истинной веры».

**По вертикали:**

2. Сословно-представительные региональные собрания в государствах Пиренейского полуострова.
4. Тяжеловооруженный воин в средневековой армии, сражавшийся верхом на коне.

Шифр участника \_\_\_\_\_



08

**Задание 10. Рассмотрите фотографию, и ответьте на вопросы.**

Максимальный балл за задание – 10 баллов. За каждый правильный ответ – 5 баллов.

В августе 2023 года на Иртышской набережной г. Омска был установлен памятник, рассмотрите фотографию и ответьте на вопросы:

10.1. Назовите исторического деятеля кому был установлен данный памятник?

10.2. Как данный исторический деятель был связан с городом Омском?

Ответ:

10.1. Пётр I

10.2. Омск возник в год его правления

